

7 класс

Задача 7.1. Фиксискорость.

ДимДимыч и фиксик Нолик решили устроить дружеское соревнование по бегу. Чтобы уравнивать шансы, ДимДимыч поставил фиксика на расстоянии 2 м от финиша, а сам стартовал на 90 м дальше. Нолик бежал изо всех сил, со скоростью 10 фиксиметров в секунду, но ДимДимыч всё равно финишировал на 1 секунду раньше. Через неделю упорных тренировок Нолика друзья повторили забег, но теперь ДимДимыч стартовал на 8 м ближе к фиксику, чем в первый раз. Несмотря на это, Нолик, развив скорость в 12 фиксиметров в секунду, обогнал друга на 1 секунду. Определите, сколько фиксиметров содержится в одном человеческом метре. Дистанция, пробегаемая Ноликом, и скорость ДимДимыча каждый раз была одна и та же. Скорость участников во время бега считать постоянной.

Ответ: 120 фиксиметров в 1 метре.

Решение: Пусть N — количество фиксиметров в одном человеческом метре. Тогда скорость Нолика в первом забеге была $\frac{10}{N}$ м/с, а во втором — $\frac{12}{N}$ м/с.

Рассмотрим первый забег. ДимДимыч там пробежал 92 м с некоторой скоростью v . Так как он прибежал на 1 секунду раньше фиксика

$$\frac{2 \text{ м}}{\frac{10}{N} \text{ м/с}} - \frac{92 \text{ м}}{v} = 1 \text{ с} \quad \Rightarrow \quad 0,2 \text{ с} \cdot N - \frac{92 \text{ м}}{v} = 1 \text{ с}.$$

Во втором случае ДимДимыч пробежал 84 м и прибежал на 1 секунду позже Нолика. Поэтому

$$\frac{84 \text{ м}}{v} - \frac{2 \text{ м}}{\frac{12}{N} \text{ м/с}} = 1 \text{ с} \quad \Rightarrow \quad \frac{84 \text{ м}}{v} - 1/6 \text{ с} \cdot N = 1 \text{ с}.$$

Из полученных уравнений находим, что

$$\begin{cases} N - \frac{5 \cdot 92 \text{ м/с}}{v} = 5, \\ \frac{6 \cdot 84 \text{ м/с}}{v} - N = 6 \end{cases} \quad \Rightarrow \quad \frac{6 \cdot 84 \text{ м/с}}{v} - \frac{5 \cdot 92 \text{ м/с}}{v} = 11 \quad \Rightarrow \quad \frac{44 \text{ м/с}}{v} = 11 \quad \Rightarrow \quad v = 4 \text{ м/с}.$$

Отсюда получаем значение N :

$$0,2 \text{ с} \cdot N - \frac{92 \text{ м}}{4 \text{ м/с}} = 1 \text{ с} \quad \Rightarrow \quad N = 120.$$

Критерии:

- 1) Скорости Нолика в первом и втором случае выражены через одну величину (например, через N) . . . 2 балла
- 2) Записано уравнение $\frac{2 \text{ м}}{\frac{10}{N} \text{ м/с}} - \frac{92 \text{ м}}{v} = 1 \text{ с}$ для первого забег (или его аналог) 2 балла
- 3) Записано уравнение $\frac{84 \text{ м}}{v} - \frac{2 \text{ м}}{\frac{12}{N} \text{ м/с}} = 1 \text{ с}$ для второго забег (или его аналог) 2 балла
- 4) Найдено значение N 4 балла

Указание проверяющим:

- 1) Учащийся может сначала найти скорость Нолика в м/с для какого-либо случая, а потом найти N ; может выразить все длины в фиксиметрах и т.п. Необходимо внимательно изучить решение учащегося и соотнести его с указанными критериями.
- 2) Если в процессе решения правильной системы уравнений учащийся верно нашёл какую либо скорость (например, скорость ДимДимыча), но ошибся в подсчёте N , за пункт 4 ставить 2 балла из 4.

Задача 7.2. Вода и кубики.

В цилиндрическом сосуде друг на друге лежат три кубика (см. рис. 7.1). Ребро среднего кубика в два раза длиннее ребра верхнего, а ребро нижнего больше ребра верхнего кубика в три раза. В сосуд начинают медленно наливать воду. До верхней грани большого кубика вода поднимается со скоростью $v_1 = 18$ мм/мин. От нижней до верхней грани среднего кубика она поднимается со скоростью $v_2 = 8$ мм/мин.

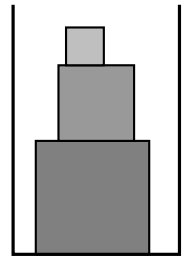


Рис. 7.1.

1. С какой скоростью v_3 вода будет подниматься от нижней до верхней грани маленького кубика?
2. Какова средняя скорость $v_{\text{ср}}$ поднятия уровня воды от дна сосуда до верхней грани маленького кубика?

Объём воды, поступающей в сосуд в единицу времени, в течение всего эксперимента не меняется.

Ответ: 1) 6 мм/мин; 2) 10,3 мм/мин.

Решение: Пусть a — длина ребра верхнего куба, а S — площадь дна сосуда. Объём воды, поступающей в сосуд в единицу времени, можно записать как произведение площади свободной от кубика части сечения сосуда и скорости подъёма воды. Так как эта величина в течение эксперимента не меняется, получаем

$$(S - (3a)^2)v_1 = (S - (2a)^2)v_2 = (S - a^2)v_3.$$

Из первого равенства найдём площадь S :

$$\begin{aligned} (S - 9a^2) \cdot 18 \text{ мм/мин} &= (S - 4a^2) \cdot 8 \text{ мм/мин} \Rightarrow 18S - 162a^2 = 8S - 32a^2 \Rightarrow \\ &\Rightarrow 10S = 130a^2 \Rightarrow S = 13a^2 \end{aligned}$$

и подставим во второе равенство:

$$(S - 4a^2) \cdot 8 \text{ мм/мин} = (S - a^2)v_3 \Rightarrow v_3 = \frac{(S - 4a^2) \cdot 8 \text{ мм/мин}}{S - a^2} = \frac{(13a^2 - 4a^2) \cdot 8 \text{ мм/мин}}{13a^2 - a^2} = 6 \text{ мм/мин}.$$

Рассчитаем теперь среднюю скорость поднятия воды. Высота первого участка равна $3a$, второго — $2a$, третьего — a , поэтому

$$v_{\text{ср}} = \frac{3a + 2a + a}{\frac{3a}{18 \text{ мм/мин}} + \frac{2a}{8 \text{ мм/мин}} + \frac{a}{6 \text{ мм/мин}}} = \frac{6}{\frac{3}{18} + \frac{2}{8} + \frac{1}{6}} \approx 10,3 \text{ мм/мин}.$$

Критерии:

- 1) Записано уравнение $(S - 9a^2)v_1 = (S - 4a^2)v_2$ или его аналог 1 балл
- 2) Найдена связь между S и a^2 2 балла
- 3) Записано уравнение $(S - 4a^2)v_2 = (S - a^2)v_3$ (или аналогичное равенство с v_1 и v_3) 1 балл
- 4) Найдено значение скорости v_3 2 балла
- 5) Записана верная формула для $v_{\text{ср}}$ через v_1, v_2, v_3 2 балла
- 6) Найдено верное значение $v_{\text{ср}}$ 2 балла

Задача 7.3. Туристы.

Лосяш и Копатыч как-то отправились в поход с одной ночёвкой на поляне в лесу. Друзья вышли в 9 часов утра, после чего дотошный Лосяш стал каждые 6 часов заносить в свой дневник данные о пройденном расстоянии (см. таблицу на рис. 7.2). Переночевав и съев запасы, Лосяш и Копатыч отправились налегке в обратный путь по той же самой дороге и вернулись домой в 14 ч 50 мин.

1. С какой скоростью Лосяш и Копатыч возвращались домой?
2. Сколько времени друзья были на поляне?

время	9:00	15:00	21:00	3:00	9:00
s, км	0	15	30	33	45

Рис. 7.2.

Считать, что скорости путешественников по дороге туда и по дороге обратно были постоянными, а находясь на поляне, они не перемещались.

Ответ: 1) 3,6 км/ч; 2) 7 ч 28 мин.

Решение: Друзья идут в сторону поляны со скоростью

$$v_1 = \frac{15 \text{ км}}{6 \text{ ч}} = 2,5 \text{ км/ч.}$$

В промежутке между 21:00 и 3:00 они за 6 часов прошли меньше 15 км, следовательно где-то после 21:00 Копатыч и Лосяш остановились на поляне. Путь до поляны составил не менее 30 км, поэтому общее расстояние, пройденное за весь поход, составило минимум 60 км. Из второй части таблицы видно, что в между 3:00 и 9:00 следующего дня они за 6 часов друзья прошли 12 км, а с 9:00 до 14:50 (почти 6 часов) — не менее 15 км. Из приведённого рассуждения следует, что, во-первых, Лосяш и Копатыч ушли с поляны уже где-то после 3 часов ночи, а, во-вторых, расстояние от дома до поляны равно 33 км.

Весь путь равен 66 км, поэтому скорость друзей по дороге обратно составила

$$v_2 = \frac{66 \text{ км} - 45 \text{ км}}{5 \text{ ч } 50 \text{ мин}} = \frac{21 \text{ км}}{35/6 \text{ ч}} = 3,6 \text{ км/ч.}$$

Найдём время прихода на поляну. После 21:00 туристы должны пройти ещё 3 км. На это им потребуется время

$$t_1 = \frac{3 \text{ км}}{v_1} = \frac{3 \text{ км}}{2,5 \text{ км/ч}} = 1,2 \text{ ч} = 1 \text{ ч } 12 \text{ мин.}$$

Следовательно, друзья пришли на место в 22 ч 12 мин.

Найдём теперь время ухода. До 9:00 утра им нужно пройти 12 км. На это Лосяшу с Копатычем потребуется время

$$t_2 = \frac{12 \text{ км}}{v_2} = \frac{12 \text{ км}}{3,6 \text{ км/ч}} = 3\frac{1}{3} \text{ ч} = 3 \text{ ч } 20 \text{ мин.}$$

Отсюда получаем, что друзья ушли с поляны в 5 ч 40 мин.

Окончательно получаем, что из 12 часов в промежутке между 21:00 и 9:00 утра Лосяш и Копатыч находились на поляне в течение

$$12 \text{ ч} - 1 \text{ ч } 12 \text{ мин} - 3 \text{ ч } 20 \text{ мин} = 7 \text{ ч } 28 \text{ мин.}$$

Критерии:

- 1) Найдена скорость по дороге к поляне 1 балл
- 2) Обосновано, что расстояние до поляны равно 33 км 2 балла
- 3) Найдена скорость по дороге обратно 2 балла
- 4) Найдено время прихода друзей на поляну или время t_1 2 балла
- 5) Найдено время ухода друзей с поляны или время t_2 2 балла
- 6) Найдено время пребывания друзей на поляне 1 балл

Указания проверяющим:

- 1) Обоснование (пункт 2) должно содержать объяснение, почему друзья ушли с поляны не раньше 3 часов ночи. Иначе расстояние до поляны могло бы быть и больше 33 км.
- 2) Если расстояние до поляны указано без необходимого обоснования, баллы за пункт 2 не ставить, а остальные пункты оценивать независимо.
- 3) Вместо времени прихода (22:12) или величины t_1 учащийся может найти время всего пути к поляне (13 ч 12 мин). В этом случае за пункт 4 ставить полный балл.
- 4) Вместо времени ухода (5:40) или величины t_2 учащийся может найти время всего пути до дома (9 ч 10 мин). В этом случае за пункт 5 ставить полный балл.
- 5) Скорость по дороге **к поляне** может быть не представлена явно. Если за пункт 4 стоит полный балл, то балл за пункт 1 ставить автоматически.

Задача 7.4. Встречи на дороге.

Два автомобиля выехали из одной точки по одной и той же дороге в одном направлении, но в разное время. Графики зависимости пройденного каждым автомобилем пути от времени движения представлены на рис. 7.3.

1. Насколько позже стартовал автомобиль №2, если машины встретились на дороге через 1,5 ч после старта первого автомобиля?
2. Через сколько минут после первой встречи автомобили встретятся на дороге снова?
3. На каком расстоянии от места старта это произойдёт?

Ответ: 1) 18 мин; 2) 75 мин; 3) 198 км.

Решение: Определим сначала скорости автомобилей. Для этого возьмём точки на графике, попадающие в узлы координатной сетки и, при этом, максимально разнесённые друг от друга (для большей точности). Первый автомобиль движется с постоянной скоростью $v = \frac{360 \text{ км}}{5 \text{ ч}} = 72 \text{ км/ч}$. Второй автомобиль первые 2 ч двигался со скоростью $u_1 = \frac{180 \text{ км}}{2 \text{ ч}} = 90 \text{ км/ч}$, а потом 3 ч со скоростью $u_2 = \frac{300 \text{ км} - 180 \text{ км}}{3 \text{ ч}} = 40 \text{ км/ч}$.

Пусть второй автомобиль стартовал через время t_0 после первого. По условию, через 1,5 часа после старта первого автомобиля они встретились. Эта встреча произошла на расстоянии $s_{в1} = v \cdot 1,5 \text{ ч} = 108 \text{ км}$ от места старта. Отсюда получим, что

$$u_1(1,5 \text{ ч} - t_0) = 108 \text{ км} \Rightarrow 1,5 \text{ ч} - t_0 = \frac{108 \text{ км}}{90 \text{ км/ч}} = 1,2 \text{ ч} \Rightarrow t_0 = 0,3 \text{ ч} = 18 \text{ мин}.$$

Найдём теперь время τ между двумя встречами автомобилей. Первый автомобиль добрался до места второй встречи за время $1,5 \text{ ч} + \tau$, а второй — за время $1,5 \text{ ч} + \tau - t_0$. Первые 2 ч второй автомобиль ехал со скоростью u_1 , а оставшееся время — со скоростью u_2 . Приравняем пройденные машинами пути:

$$v(1,5 \text{ ч} + \tau) = u_1 \cdot 2 \text{ ч} + u_2(1,5 \text{ ч} + \tau - t_0 - 2 \text{ ч}) \Rightarrow 108 \text{ км} + 72 \text{ км/ч} \cdot \tau = 180 \text{ км} - 32 \text{ км} + 40 \text{ км/ч} \cdot \tau \Rightarrow$$

$$\Rightarrow 32 \text{ км/ч} \cdot \tau = 40 \text{ км} \Rightarrow \tau = 1,25 \text{ ч} = 75 \text{ мин}.$$

Пройденный первым автомобилем путь до места второй встречи будет равен

$$s = v(1,5 \text{ ч} + \tau) = v \cdot 2,75 \text{ ч} = 72 \text{ км/ч} \cdot 2,75 \text{ ч} = 198 \text{ км}.$$

Критерии:

- | | |
|---|---------|
| 1) Найдена скорость v | 1 балл |
| 2) Найдены скорости u_1 и u_2 | 1 балл |
| 3) Найдено время запаздывания t_0 | 2 балла |
| 4) Записано верное уравнение для определения τ | 2 балла |
| 5) Найдено время между двумя встречами τ | 2 балла |
| 6) Найдено расстояние от старта до места второй встречи | 2 балла |

Указание проверяющим:

- 1) Если верно найдена только одна из скоростей в пункте 2, ставить за этот пункт 0,5 балла.
- 2) Если учащийся ошибся в определении скоростей по графику, но далее использовал верные (с физической точки зрения) уравнения, то баллы снимаются только за пункты 1 и 2. Остальные пункты оценивать независимо.
- 3) Если учащийся определял какие-то иные величины по графику (например, $s_{в1} \approx 110 \text{ км}$), внося этим дополнительные погрешности, те из пунктов 3, 5 или 6 критериев, где это было использовано, оценивать максимум в 1 балл.

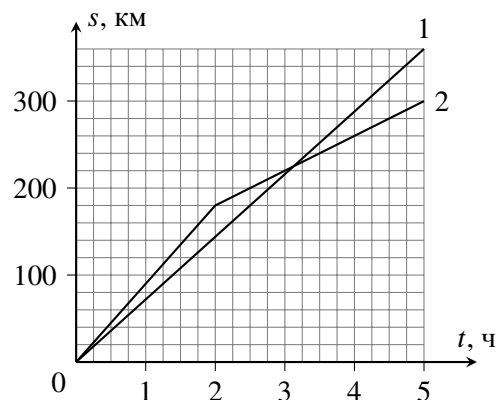


Рис. 7.3.

8 класс

Задача 8.1. Моторная лодка.

Моторная лодка прошла от пристани Борисово вниз по течению реки до пристани Гуськово, а через некоторое время обратно, вверх по реке, до пристани Борисово. Средняя скорость лодки на **всём** пути была равна v , а время стоянки в Гуськово составило $1/10$ времени всего путешествия. Чему равна скорость лодки u в стоячей воде, если она больше скорости течения реки в 3 раза? Считать, что лодка движется вверх и вниз по течению равномерно, а скорость течения реки не меняется.

Ответ: $5v/4$.

Решение: По условию скорость течения реки равна $v_{\text{теч}} = u/3$. Лодка идёт вниз по течению со скоростью $v_{\text{по}} = u + v_{\text{теч}} = 4u/3$, а против течения — со скоростью $v_{\text{против}} = u - v_{\text{теч}} = 2u/3$.

Пусть s — расстояние между пристанями, тогда время всего путешествия равно $t = 2s/v$, а время стоянки в Гуськово

$$t_{\text{ост}} = \frac{t}{10} = \frac{2s}{10v}.$$

Следовательно

$$t = \frac{s}{v_{\text{по}}} + \frac{s}{v_{\text{против}}} + t_{\text{ост}} \Rightarrow \frac{2s}{v} = \frac{s}{v_{\text{по}}} + \frac{s}{v_{\text{против}}} + \frac{2s}{10v} \Rightarrow \frac{9s}{5v} = \frac{s}{4u/3} + \frac{s}{2u/3} = \frac{3s}{4u} + \frac{3s}{2u} = \frac{9s}{4u}.$$

Отсюда получаем, что $u = 5v/4$.

Критерии:

- 1) Записано выражение для скорости лодки по течению $v_{\text{по}}$ через u 2 балла
- 2) Записано выражение для скорости лодки против течения $v_{\text{против}}$ через u 2 балла
- 3) Записано выражение для времени стоянки $t_{\text{ост}}$ лодки в Гуськово 2 балла
- 4) Записано уравнение, связывающее среднюю скорость с $v_{\text{по}}$ и $v_{\text{против}}$ 2 балла
- 5) Найдена скорость u 2 балла

Указание проверяющим: Учащийся может сразу связать верные выражения для $v_{\text{по}}$, $v_{\text{против}}$ и/или $t_{\text{ост}}$ и среднюю скорость. В этом случае баллы за пункты 1, 2 и/или 3 ставятся в полном объёме.

Задача 8.2. Топим стакан.

В большой ванне с водой плавает цилиндрический пенопластовый стакан, до краёв заполненный водой, погружаясь на 75% своего объёма. Мальчик Паша стал аккуратно, на тонкой ниточке, по одному опускать в стакан алюминиевые грузики. Ёмкость стакана равна 210 см^3 , масса одного грузика — $9,5 \text{ г}$. Какое максимальное число грузиков Паша сможет опустить, чтобы не утопить стакан? Плотность пенопласта равна 50 кг/м^3 , плотность алюминия — 2700 кг/м^3 , плотность воды — 1000 кг/м^3 .

Ответ: 11 штук.

Решение: Пусть M — масса стакана (без содержимого), $V = 210 \text{ см}^3$ — его ёмкость. Запишем условие плавания стакана в первом случае:

$$(\rho_B V + M)g = 0,75\rho_B g \left(V + \frac{M}{\rho_{\text{п}}} \right) \Rightarrow \rho_B V + M = 0,75\rho_B V + \frac{0,75\rho_B M}{\rho_{\text{п}}} \Rightarrow M = \frac{0,25\rho_B V}{0,75\rho_B/\rho_{\text{п}} - 1} = 3,75 \text{ г}.$$

Пусть m — масса одного грузика. Найдём теперь минимальное их количество N , при котором стакан полностью погрузится в воду, учитывая, что объём воды в стакане уменьшается на величину объёма погружённых тел $V_{\text{гр}} = Nm/\rho_{\text{ал}}$. Запишем еще раз условие плавания:

$$\begin{aligned} (\rho_B(V - V_{\text{гр}}) + M + Nm)g &= \rho_B g \left(V + \frac{M}{\rho_{\text{п}}} \right) \Rightarrow \rho_B V - \frac{\rho_B Nm}{\rho_{\text{ал}}} + M + Nm = \rho_B V + \frac{\rho_B M}{\rho_{\text{п}}} \Rightarrow \\ \Rightarrow Nm \left(1 - \frac{\rho_B}{\rho_{\text{ал}}} \right) &= M \left(\frac{\rho_B}{\rho_{\text{п}}} - 1 \right) \Rightarrow N = \frac{M}{m} \cdot \frac{\rho_B/\rho_{\text{п}} - 1}{1 - \rho_B/\rho_{\text{ал}}} \approx 11,9. \end{aligned}$$

Отсюда следует, что максимальное количество грузиков, которое ещё не утопит стакан, равно 11.

Критерии:

- 1) Записано условие плавания для стакана без грузиков 2 балла
- 2) Найдена масса или объём стенок стакана 1 балл
- 3) Найдено объём воды, оставшейся в стакане после погружения грузиков 1 балл
- 4) Записано условие плавания для стакана с грузиками 2 балла
- 5) Найдено значение N , при котором стакан погрузится полностью 2 балла
- 6) Записано, что максимальное количество грузиков, которое не утопит стакан, равно 11 2 балла

Указание проверяющим:

- 1) Масса (или объём стенок) стакана могут быть записаны в виде формулы, связывающей данные из условия, без подсчёта числового значения. В этом случае балл за пункт 2 ставить.
- 2) Объём воды, оставшийся в стакане, может быть сразу записан внутри второго условия плавания. В этом случае баллы за пункт 3 ставить автоматически.

Задача 8.3. Сообщающиеся сосуды на новый лад.

В высоком теплоизолированном сосуде, разделённом тонкой вертикальной перегородкой на две неравные части, находится слой воды высотой $H = 10$ см при температуре $t_1 = 12^\circ\text{C}$. Площадь сечения широкой части сосуда в два раза больше площади сечения узкой, а между перегородкой и дном есть небольшой зазор (см. рис. 8.1). В широкую часть сосуда налили керосин при температуре $t_2 = 75^\circ\text{C}$ так, что верхняя поверхность керосина оказалась на высоте $H_1 = 21$ см от дна сосуда. Определите установившуюся температуру жидкостей в сосуде. Удельная теплоёмкость керосина равна $2100 \text{ Дж}/(\text{кг}\cdot^\circ\text{C})$, воды — $4200 \text{ Дж}/(\text{кг}\cdot^\circ\text{C})$. Плотность керосина $800 \text{ кг}/\text{м}^3$, плотность воды — $1000 \text{ кг}/\text{м}^3$. Стенки сосуда вертикальны, теплоёмкостью стенок и перегородки можно пренебречь.




Рис. 8.1.

Ответ: 30°C .

Решение: Пусть S — площадь сечения левого сосуда, тогда площадь сечения правого равна $2S$. Масса воды в сосуде $m_B = \rho_B H \cdot 3S$. После того, как в широкую часть сосуда налили керосин, уровень воды там опустился на некоторую величину x , а в узкой части, соответственно, поднялся на $2x$ (см. рис. 8.2).

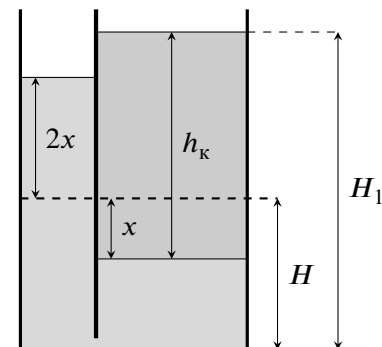


Рис. 8.2.

Пусть h_k — высота слоя налитого керосина. Тогда

$$H_1 = H + h_k - x \Rightarrow h_k = x + 11 \text{ см.}$$

Запишем условие равенства давлений на уровне нижней границы керосина:

$$\rho_k g h_k = \rho_B g \cdot 3x \Rightarrow h_k = \frac{3\rho_B x}{\rho_k} = \frac{15x}{4}.$$

Отсюда получаем, что

$$15x/4 = x + 11 \text{ см} \Rightarrow x = 4 \text{ см, } h_k = 15 \text{ см.}$$

Запишем теперь уравнение теплового баланса, учитывая, что масса керосина равна $m_k = \rho_k h_k \cdot 2S$:

$$c_B m_B (t_{\text{уст}} - t_1) = c_k m_k (t_2 - t_{\text{уст}}) \Rightarrow c_B \rho_B H \cdot 3S (t_{\text{уст}} - t_1) = c_k \rho_k h_k \cdot 2S (t_2 - t_{\text{уст}}) \Rightarrow$$

$$t_2 - t_{\text{уст}} = \frac{3c_B \rho_B H}{2c_k \rho_k h_k} \cdot (t_{\text{уст}} - t_1) = 2,5(t_{\text{уст}} - t_1) \Rightarrow t_{\text{уст}} = \frac{t_2 + 2,5t_1}{3,5} = 30^\circ\text{C}.$$

Критерии:

- 1) Записано выражение для массы воды в сосуде 0,5 балла
- 2) Записано выражение для массы керосина в сосуде 0,5 балла
- 3) Указано, что изменения высоты уровня воды в широкой и узкой частях сосуда отличаются в 2 раза . . . 1 балл
- 4) Записана связь между H_1 , H , h_k и изменением уровня воды 1 балл
- 5) Записано условие равенства давлений 2 балла
- 6) Найдена высота слоя керосина 2 балла
- 7) Записано уравнение теплового баланса 1 балл
- 8) Найдена установившаяся температура $t_{\text{уст}}$ 2 балла

Указание проверяющим:

- 1) Выражения для массы воды и/или керосина могут быть сразу записаны внутри уравнения теплового баланса. В этом случае баллы за пункты 1 и/или 2 ставить автоматически.
- 2) Указание на то, что изменение уровней отличаются вдвое, может быть у учащегося на рисунке или сразу в условии равенства давлений. В этом случае балл за пункт 3 ставить.

Задача 8.4. Тающее равновесие.

На двух опорах лежит однородный стержень массой $M = 450$ г. К концам стержня подвешены два разных куска льда с массами $m_1 = 400$ г и $m_2 = 100$ г. Конструкцию осветило солнце, и обе льдинки начали одновременно таять. Скорость таяния большого куска равна $\mu_1 = 1,4$ г/мин, скорость таяния маленького $\mu_2 = 1,0$ г/мин.

1. Чему были равны силы давления стержня на опоры до того, как лёд начал таять?

2. Через какое время после начала таяния кусков льда конструкция опрокинется?

Длина стержня в 3 раза больше расстояния между опорами, относительно которых стержень лежит симметрично (см. рис. 8.3). Ускорение свободного падения принять равным 10 Н/кг.

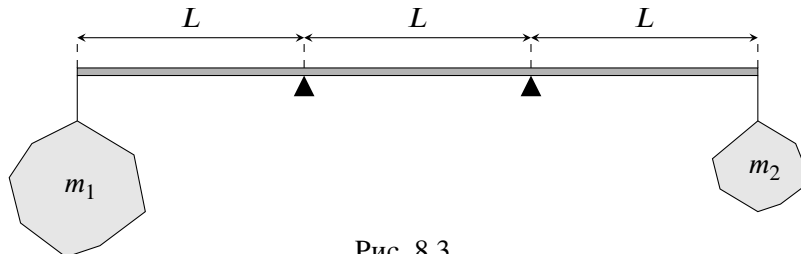


Рис. 8.3.

Ответ: 1) 9,25 Н и 0,25 Н; 2) 41 мин 40 с.

Решение: Рассмотрим силы, действующие на стержень до начала процесса таяния. Обозначим $N_{\text{л}}$ и $N_{\text{п}}$ силы, действующие на него со стороны левой и правой опоры соответственно. Запишем условие, что равнодействующая всех этих сил равна нулю:

$$Mg + m_1g + m_2g = N_{\text{л}} + N_{\text{п}} \Rightarrow N_{\text{л}} + N_{\text{п}} = 9,5 \text{ Н.}$$

Теперь запишем правило моментов относительно левой опоры:

$$m_1gL + N_{\text{п}}L = m_2g \cdot 2L + Mg \cdot L/2 \Rightarrow N_{\text{п}} = 2m_2g + Mg/2 - m_1g = 0,25 \text{ Н.}$$

Следовательно, $N_{\text{л}} = 9,5 \text{ Н} - 0,25 \text{ Н} = 9,25 \text{ Н}$.

Левый кусок льда изначально был тяжелее, скорость его таяния больше, но не в 4 раза (тогда бы он растаял быстрее маленького куска). Это означает, что рычаг может опрокинуться только влево. Рассмотрим момент отрыва t стержня от правой опоры и запишем правило моментов в этом случае относительно левой:

$$(m_1 - \mu_1t)gL = (m_2 - \mu_2t)g \cdot 2L + Mg \cdot L/2.$$

Преобразуя это уравнение, получим

$$\begin{aligned} m_1 - \mu_1t &= 2m_2 - 2\mu_2t + M/2 \Rightarrow (2\mu_2 - \mu_1)t = 2m_2 + M/2 - m_1 \Rightarrow \\ \Rightarrow t &= \frac{2m_2 + M/2 - m_1}{2\mu_2 - \mu_1} = \frac{2 \cdot 100 \text{ г} + 225 \text{ г} - 400 \text{ г}}{2 \cdot 1 \text{ г/мин} - 1,4 \text{ г/мин}} = \frac{25 \text{ г}}{0,6 \text{ г/мин}} = 41 \frac{2}{3} \text{ мин} = 41 \text{ мин } 40 \text{ с.} \end{aligned}$$

Критерии:

- 1) Записано правило моментов до начала таяния 2 балла
- 2) Записано условие равенства сил до начала таяния 1 балл
- 3) Найдены силы $N_{\text{л}}$ и $N_{\text{п}}$ 1 балл
- 4) Записаны законы изменения массы каждого куска со временем 1 балл
- 5) Указано, что в момент опрокидывания сила реакции со стороны правой опоры отсутствует 1 балл
- 6) Записано правило моментов 2 балла
- 7) Найдено время опрокидывания t 2 балла

Указание проверяющим:

- 1) В пункте 2 вместо условия равенства сил может быть записано правило моментов относительно иной, чем в пункте 1, точки. В этом случае за первое верно написанное правило моментов ставить 2 балла, а за второе — 1 балл (как за пункт 2 критериев).
- 2) Закон изменения массы (например, для первого куска $m_1 - \mu_1t$) может быть сразу записан внутри правила моментов. В этом случае баллы за пункт 4 ставить автоматически.
- 3) Если отсутствует явно написанное указание, что сила реакции правой опоры в момент опрокидывания равна нулю, балл за пункт 5 не ставить! Остальные пункты при этом оцениваются независимо.
- 4) Для ориентировки: в секундах время до опрокидывания равно 2500 с.

9 класс

Задача 9.1. В полёте.

Мячик бросили вертикально вверх с некоторой большой высоты. Какова была начальная скорость мячика, если за 2 с от момента броска он прошёл **путь**, равный 10,4 м? Рассмотрите все возможные варианты. Ускорение свободного падения принять равным 10 м/с^2 . Сопротивлением воздуха пренебречь.

Ответ: 12 м/с или 8 м/с.

Решение: Пусть v — начальная скорость мячика. Рассмотрим первый вариант, когда за время $t = 2$ с полёта мячик двигался строго вверх. В этом случае путь $s = 10,4$ м совпадает с величиной перемещения, поэтому

$$s = vt - \frac{gt^2}{2} \Rightarrow v = \frac{s}{t} + \frac{gt}{2} = 15,2 \text{ м/с.}$$

Однако конечная скорость мячика, при этом, будет отрицательной

$$v_{\text{кон}} = v - gt = -4,8 \text{ м/с} < 0.$$

Из этого следует, что первый вариант невозможен.

Перейдём теперь ко второму варианту, когда мячик сначала поднялся на некоторую высоту h , а затем пролетел вниз расстояние $s - h$. Так как время подъёма равно $t_{\text{под}} = v/g$, а высота $h = v^2/(2g)$, получаем, что

$$s - h = \frac{g(t - t_{\text{под}})^2}{2} \Rightarrow s - \frac{v^2}{2g} = \frac{g}{2} \cdot \left(t^2 - \frac{2vt}{g} + \frac{v^2}{g^2} \right) \Rightarrow \frac{v^2}{g} - vt + \frac{gt^2}{2} - s = 0.$$

Решаем полученное уравнение и находим оба решения:

$$v = \frac{g}{2} \cdot \left(t \pm \sqrt{\frac{4s}{g} - t^2} \right) \Rightarrow v_1 = 12 \text{ м/с}, v_2 = 8 \text{ м/с.}$$

Критерии:

- 1) Рассмотрен первый случай (движение в одном направлении) 1 балл
- 2) Показано, что в этом случае получается противоречие 2 балла
- 3) Записано выражение для h через v во втором случае 1 балл
- 4) Записано выражение для $t_{\text{под}}$ через v во втором случае 1 балл
- 5) Записано правильное уравнение для нахождения v 3 балла
- 6) Найдены оба решения v_1 и v_2 2 балла

Указание проверяющим:

- 1) Балл за пункт 1 ставится, если учащийся прямо указал на существование этого варианта. Простого написания формулы $s = vt - gt^2/2$ недостаточно.
- 2) Вместо $t_{\text{под}}$ учащийся может найти время возвращения мяча в точку броска. Балл за пункт 4 в этом случае ставить.
- 3) Если учащийся нашёл только одно правильное значение скорости (второе было найдено неверно или, по каким-то причинам, отброшено), за пункт 6 ставить 1 балл из двух.

Задача 9.2. Вес в жидкости.

В цилиндрическом сосуде находится сплошной металлический куб. Когда в сосуд налили 240 г керосина, он полностью покрыл куб, и вес куба оказался равным 9,6 Н. Если же вместо керосина в сосуд налить 200 г воды, вес куба не изменится.

1. Какова длина ребра куба, если площадь дна сосуда в три раза больше площади грани этого куба?
2. Чему равна плотность металла, из которого сделан куб?
3. Насколько уровень керосина в первом случае выше верхней грани куба?

Жидкости могут свободно подтекать под нижнюю грань куба. Плотность воды равна 1000 кг/м³, керосина — 800 кг/м³. Ускорение свободного падения принять равным 10 м/с².

Ответ: 1) 5 см; 2) 8480 кг/м³; 3) на 0,7 см.

Решение: Пусть a — длина ребра куба, тогда площадь дна сосуда равна $S = 3a^2$. В первом случае керосин полностью покрывает куб, поэтому объём погружённой части куба равен его полному объёму $V = a^3$. Выталкивающая сила, действующая на куб, равна $F_A = \rho_k g a^3$.

Во втором случае вес куба не меняется. Как следствие, не меняется и выталкивающая сила, действующая на него. Так как плотность воды больше плотности керосина, то объём погружённой части V' должен быть меньше V . Найдём высоту слоя воды

$$h_B = \frac{V'}{a^2} = \frac{F_A}{\rho_B g a^2} = \frac{\rho_k a}{\rho_B} = 0,8a.$$

Масса воды равна $m_B = 200$ г, поэтому

$$m_B = \rho_B h_B (S - a^2) = \rho_B \cdot 0,8a \cdot 2a^2 \Rightarrow a^3 = \frac{m_B}{1,6\rho_B} = 125 \text{ см}^3 \Rightarrow a = 5 \text{ см}.$$

Запишем вес куба в керосине (ρ — плотность металла):

$$P = \rho g a^3 - \rho_k g a^3 \Rightarrow \rho = \frac{P}{g a^3} + \rho_k = \frac{9,6 \text{ Н}}{10 \text{ м/с}^2 \cdot 0,000125 \text{ м}^3} + 800 \text{ кг/м}^3 = 8480 \text{ кг/м}^3.$$

Пусть поверхность керосина находится на высоте x верхней гранью кубика. Тогда объём керосина равен

$$V_k = (S - a^2) \cdot a + Sx = 2a^3 + 3a^2x.$$

С другой стороны, $V_k = (240 \text{ г})/\rho_k = 300 \text{ см}^3$. Приравнявая, получаем

$$2a^3 + 3a^2x = 300 \text{ см}^3 \Rightarrow x = \frac{300 \text{ см}^3 - 2a^3}{3a^2} = \frac{300 \text{ см}^3 - 250 \text{ см}^3}{3 \cdot 25 \text{ см}^2} \approx 0,7 \text{ см}.$$

Критерии:

- | | |
|---|---------|
| 1) Обосновано, что куб в воду погружён не полностью | 1 балл |
| 2) Найдена высота слоя воды | 1 балл |
| 3) Найдена длина ребра куба | 2 балла |
| 4) Записано выражение для веса куба в керосине (или в воде) | 1 балл |
| 5) Найдена плотность металла | 2 балла |
| 6) Записано выражение для объёма керосина | 1 балл |
| 7) Найдено значение x | 2 балла |

Указание проверяющим:

При отсутствии обоснования, что куб в воду погружён частично, балл за пункт 1 не ставить, но остальные пункты оценивать независимо.

Задача 9.3. Эксперименты на удалёнке.

Экспериментатор Иннокентий Иванов провёл от удалённого источника постоянного напряжения провода в свою лабораторию. Уже находясь на своём рабочем месте, он вспомнил, что забыл измерить напряжение на выводах этого источника. Не растерявшись, Иннокентий взял резистор сопротивлением 20 Ом и присоединил его к концам проводов. Измерения показали, что напряжение на резисторе равно 9 В. Когда же он заменил этот резистор на другой, с сопротивлением 50 Ом, измеренное напряжение оказалось равным 12,5 В. Наконец, не меняя подключённого резистора, учёный срезал изоляцию с провода в двух местах на расстоянии 40 см друг от друга (с одной стороны от резистора) и измерил напряжение между этими точками. Теперь он получил значение 10 мВ. Чему равно напряжение на выводах источника и общая длина проводов? Провода, использованные Иннокентием, имеют постоянное сечение и сделаны из одного материала. Вольтметр учёного можно считать идеальным.

Ответ: 16,9 В, 175 м.

Решение: Определим сначала ток через резистор в первом и втором случае:

$$I_1 = \frac{9 \text{ В}}{20 \text{ Ом}} = 0,45 \text{ А}, \quad I_2 = \frac{12,5 \text{ В}}{50 \text{ Ом}} = 0,25 \text{ А}.$$

Пусть λ — сопротивление единицы длины проводов, L — общая их длина, а U_0 — напряжение на выводах источника. Во втором и третьем эксперименте цепь одинаковая, поэтому

$$I_2 = \frac{0,01 \text{ В}}{\lambda \cdot 0,4 \text{ м}} \Rightarrow \lambda = \frac{0,01 \text{ В}}{0,25 \text{ А} \cdot 0,4 \text{ м}} = 0,1 \text{ Ом/м}.$$

Запишем соотношения между напряжением на проводах и силой тока в них для первого и второго эксперимента:

$$\begin{cases} U_0 - 9 \text{ В} = I_1 \cdot \lambda L, \\ U_0 - 12,5 \text{ В} = I_2 \cdot \lambda L \end{cases} \Rightarrow \frac{U_0 - 9 \text{ В}}{U_0 - 12,5} = \frac{I_1}{I_2} = 1,8 \Rightarrow U_0 = 16,875 \text{ В} \approx 16,9 \text{ В}.$$

Отсюда получаем, что

$$L = \frac{U_0 - 9 \text{ В}}{I_1 \lambda} = \frac{16,875 \text{ В} - 9 \text{ В}}{0,45 \text{ А} \cdot 0,1 \text{ Ом/м}} = 175 \text{ м}.$$

Критерии:

- 1) Найдены токи через резисторы в первом и втором случаях 1 балл
- 2) Найдено сопротивление единицы длины проводов 1 балл
- 3) Записана связь между напряжением на источнике и силой тока в первом эксперименте 2 балла
- 4) Записана связь между напряжением на источнике и силой тока во втором (третьем) эксперименте 2 балла
- 5) Найдено напряжение на источнике U_0 2 балла
- 6) Найдена общая длина проводов 2 балла

Указание проверяющим:

Числовые значения токов и λ находить не обязательно, учащимся достаточно записать соответствующие формулы. Кроме того, эти формулы могут быть частью выражений в пунктах 3, 4 и 6. В этом случае баллы за пункты 1 и/или 2 ставить автоматически.

Задача 9.4. Опыты по выходным.

Сидя дома в воскресенье, девочка Наташа решила поэкспериментировать. Она принесла из морозилки 100 г льда, положила в калориметр и налила туда 180 г воды. После установления теплового равновесия выяснилось, что в калориметре осталось 75 г нерастаявшего льда. Наташа повторила свой опыт, взяв из морозилки то же количество льда, но налив 270 г воды. В этот раз в калориметре осталось только 55 г нерастаявшего льда.

1. Определите начальную температуру воды, которую Наташа наливает в калориметр.
2. Какая масса льда будет в калориметре после установления теплового равновесия, если Наташа в третий раз повторит свой опыт, но нальёт в калориметр 27 г воды? Количество льда, взятого из морозилки, то же, что и в предыдущих опытах.

Начальная температура воды во всех трёх опытах была одинаковой. Теплоёмкостью калориметра и теплообменом с окружающей средой можно пренебречь. Удельная теплоёмкость воды равна 4200 Дж/(кг·°C), льда — 2100 Дж/(кг·°C), удельная теплота плавления льда — 330 кДж/кг.

Ответ: 1) 17,5 °C; 2) 109 г.

Решение: Пусть t — начальная температура воды. Температура льда в морозилке не равна нулю, поэтому льду, для того чтобы начать плавление, нужно передать некоторое количество теплоты Q . Запишем уравнения теплового баланса для первых двух опытов:

$$Q + \lambda(100 \text{ г} - 75 \text{ г}) = c_{\text{в}} \cdot 180 \text{ г} \cdot (t - 0 \text{ }^{\circ}\text{C}),$$

$$Q + \lambda(100 \text{ г} - 55 \text{ г}) = c_{\text{в}} \cdot 270 \text{ г} \cdot (t - 0 \text{ }^{\circ}\text{C}).$$

Вычитая их, находим

$$\lambda \cdot 20 \text{ г} = c_{\text{в}} \cdot 90 \text{ г} \cdot t \quad \Rightarrow \quad t = \frac{\lambda \cdot 20 \text{ г}}{c_{\text{в}} \cdot 90 \text{ г}} \approx 17,5 \text{ }^{\circ}\text{C}.$$

В третьем случае воды слишком мало, чтобы начать топить лёд. Наоборот, вода начнёт замерзать, и к 100 г льда добавится ещё Δm . Запишем ещё раз уравнение теплового баланса:

$$Q = \lambda \Delta m + c_{\text{в}} \cdot 27 \text{ г} \cdot (t - 0 \text{ }^{\circ}\text{C}).$$

Подставляя выражение для Q и t в первое уравнение, получаем

$$\lambda \Delta m + c_{\text{в}} \cdot 27 \text{ г} \cdot t + \lambda \cdot 25 \text{ г} = c_{\text{в}} \cdot 180 \text{ г} \cdot t \quad \Rightarrow \quad \lambda(25 \text{ г} + \Delta m) = c_{\text{в}} \cdot 153 \text{ г} \cdot t = \lambda \cdot 34 \text{ г} \quad \Rightarrow \quad \Delta m = 9 \text{ г}.$$

Отсюда следует, что масса льда в третьем опыте будет равна 100 г + 9 г = 109 г.

Критерии:

- | | |
|--|---------|
| 1) Записано уравнение теплового баланса в первом случае | 1 балл |
| 2) Записано уравнение теплового баланса во втором случае | 1 балл |
| 3) Найдена начальная температура воды | 2 балл |
| 4) Записано уравнение теплового баланса в третьем случае | 3 балла |
| 5) Найдено Δm | 2 балла |
| 6) Найдена масса льда в третьем опыте | 1 балл |

Указание проверяющим: Для ориентировки, температура льда в морозилке равна $-23,6 \text{ }^{\circ}\text{C}$.

Задача 9.5. Современное искусство.

На стене комнаты висит картина K высотой $0,9$ м, верхний край которой находится на расстоянии $1,7$ м от пола (см. рис. 9.1). Мальчик Паша решил, что картина висит вверх ногами, и положил на пол зеркало Z . В результате оказалось, что минимальное расстояние от стены, на котором Паша может видеть в зеркале всю картину целиком, равно $2,7$ м.

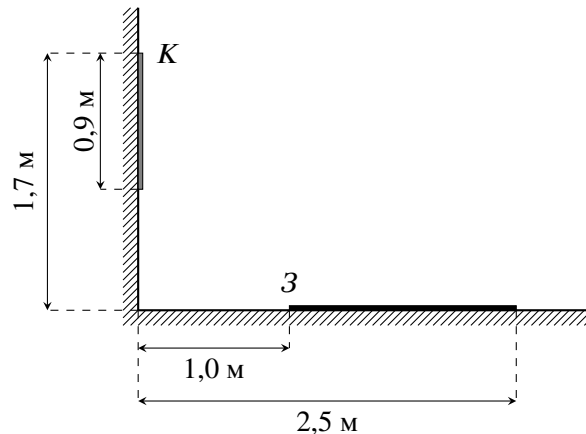


Рис. 9.1.

1. Чему равно расстояние от пола до глаз Паши?
2. Каково максимально возможное расстояние до стены, при котором мальчик будет видеть в зеркале всю картину?

Расстояние от краёв зеркала до стены равно $1,0$ м и $2,5$ м. Паша всегда рассматривает картину, не приседая и не подпрыгивая. Толщиной зеркала и картины пренебречь.

Ответ: 1) $1,36$ м; 2) $4,5$ м.

Решение: Отразим картину в зеркале. Проведём прямые, соединяющие верхний (по рис. 9.2) край отражения K' с краями зеркала. Они ограничивают область, из которой видно этот край картины. Сделаем теперь то же самое для нижнего края отражения K' . Пересечение полученных областей — это область, из которой видно и верхний, и нижний край картины (на рис. 9.2 закрашенная область).

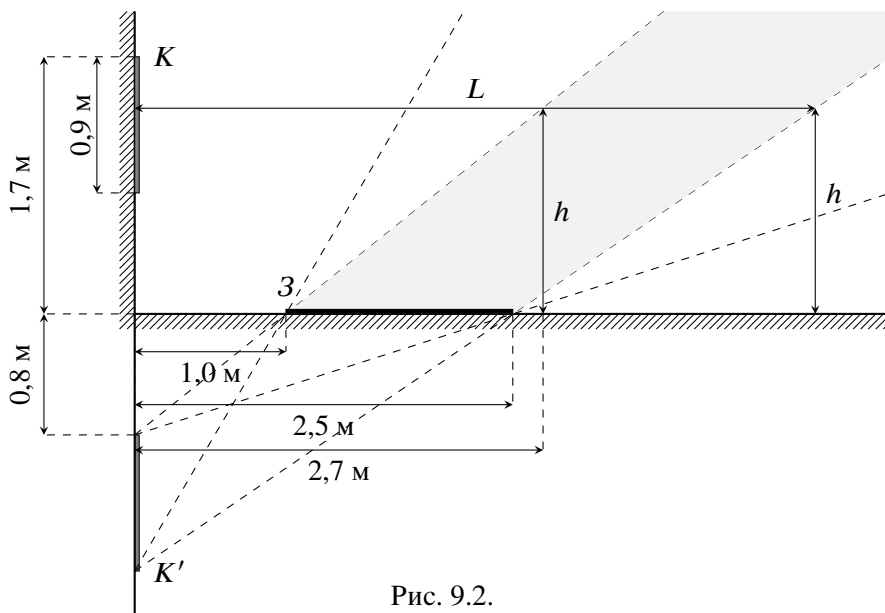


Рис. 9.2.

Найдём расстояние h от пола до глаз Паши. Для этого проведём перпендикуляр к полу на расстоянии $2,7$ м от стены до пересечения его с левой границей области видимости. Из подобия треугольников получим, что

$$\frac{h}{2,7 \text{ м} - 1,0 \text{ м}} = \frac{0,8 \text{ м}}{1,0 \text{ м}} \Rightarrow h = 1,36 \text{ м}.$$

Если L — максимальное расстояние, с которого Паша видит картину, то перпендикуляр к полу, построенный на расстоянии L от стены, должен пересекаться с правой границей области видимости на той же самой высоте h . Из подобия найдём, что

$$\frac{h}{L - 2,5 \text{ м}} = \frac{1,7 \text{ м}}{2,5 \text{ м}} \Rightarrow L = 4,5 \text{ м}.$$

Критерии:

- | | |
|---|---------|
| 1) Обоснованно определены границы области, из которой видно всю картину | 2 балла |
| 2) Записано правильное уравнение для нахождения h | 2 балла |
| 3) Найдено верное числовое значение h | 2 балла |
| 4) Записано правильное уравнение для нахождения L | 2 балла |
| 5) Найдено верное числовое значение L | 2 балла |

Указания проверяющим:

- 1) Область видимости может быть построена отличным от авторского способом. Нужно проверять обоснованность построения.
- 2) Если обоснование отсутствует, а учащийся просто провёл две границы, баллы за пункт 1 не ставить. Остальные пункты оцениваются независимо.

10 класс

Задача 10.1. Архив Лосяша.

Учёный Лосяш, разбирая архив, нашёл своё старое исследование по баллистике. Там он увидел незаконченный чертёж (рис. 10.1), где на координатной сетке были нанесены три положения тела, брошенного под некоторым углом к горизонту, в различные моменты времени. В подписи к чертежу было указано, что масштаб по обеим осям одинаковый, а ускорение свободного падения направлено вдоль оси y .

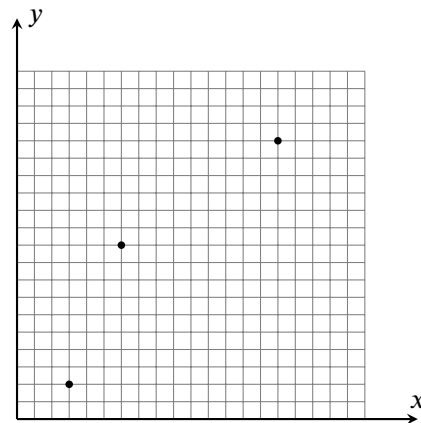


Рис. 10.1.

1. Определите, под каким углом к горизонту направлен вектор скорости в каждой из трёх отмеченных на чертеже точек.

2. Найдите отношение скоростей в левой и правой точках.

Сопротивлением воздуха пренебречь.

Ответ: 1) $\alpha_1 = \arctg \frac{19}{6} \approx 72,5^\circ$, $\alpha_2 = \arctg \frac{13}{6} \approx 65,2^\circ$, $|\alpha_3| = \arctg \frac{5}{6} \approx 39,8^\circ$; 2) 2,55.

Решение: Пронумеруем точки на рисунке слева направо числами от 1 до 3. Пусть s — расстояние, соответствующее одной клетке, v_i — скорость в i -й точке, а T — время, за которое тело перелетело из точки 1 в точку 2.

Так как горизонтальная проекция скорости тела постоянна, из точки 1 в точку 3 тело попадёт за время $4T$. Соответствующие вертикальные проекции перемещения:

$$\Delta y_{12} = 8s = v_{1y}T - \frac{gT^2}{2}, \quad \Delta y_{13} = 14s = v_{1y} \cdot 4T - \frac{16gT^2}{2}.$$

Из этих формул получаем, что

$$s = \frac{v_{1y}T}{8} - \frac{gT^2}{16} = \frac{2v_{1y}T}{7} - \frac{4gT^2}{7} \Rightarrow v_{1y} = \frac{19gT}{6}, s = \frac{gT^2}{3}.$$

Проекция скорости тела на горизонтальную ось, следовательно, равна $v_x = 3s/T = gT$. Запишем выражения для вертикальной проекции скорости в точках 2 и 3:

$$v_{2y} = v_{1y} - gT = \frac{13gT}{6}, \quad v_{3y} = v_{1y} - 4gT = -\frac{5gT}{6}.$$

Отсюда найдём углы наклона вектора скорости:

$$\operatorname{tg} \alpha_1 = \frac{v_{1y}}{v_x} = \frac{19}{6} \Rightarrow \alpha_1 = \arctg \frac{19}{6} \approx 72,5^\circ, \quad \operatorname{tg} \alpha_2 = \frac{v_{2y}}{v_x} = \frac{13}{6} \Rightarrow \alpha_2 = \arctg \frac{13}{6} \approx 65,2^\circ,$$

$$\operatorname{tg} \alpha_3 = \frac{v_{3y}}{v_x} = -\frac{5}{6} \Rightarrow |\alpha_3| = \arctg \frac{5}{6} \approx 39,8^\circ.$$

Отношение скоростей в первой и третьей точке равно

$$\frac{v_1}{v_3} = \frac{\sqrt{v_{1y}^2 + v_x^2}}{\sqrt{v_{3y}^2 + v_x^2}} = \frac{\sqrt{(19/6)^2 + 1}}{\sqrt{(5/6)^2 + 1}} \approx 2,55.$$

Критерии:

- 1) Время перелёта 1-3 связано со временем перелёта 1-2 или 2-3 1 балл
- 2) Записаны формулы для Δy_{12} и Δy_{13} через T или аналогичный параметр 2 балла
- 3) Записаны формулы для v_{2y} и v_{3y} через T или аналогичный параметр 1 балл
- 4) Найдены отношения v_{iy}/v_x для всех точек 1 балл за каждую точку (в сумме 3 балла)
- 5) Найдены углы α_i 1 балл
- 6) Найдено отношение v_1/v_3 или v_3/v_1 2 балла

Указания проверяющим:

- 1) Учащийся может найти время перелёта 2-3 и связать его с временем 1-2 (например). Соответственно, он запишет выражение для Δy_{23} . Если всё сделано верно, баллы за пункты 1 и 2 ставить.
- 2) Углы могут быть записаны через арктангенсы. В этом случае баллы за пункт 5 ставить.
- 3) Учащийся может рассмотреть полёт тела не от точки 1 в точку 3, а наоборот, от точки 3 в точку 1. Данный подход полностью равноценен авторскому, но в деталях формул может отличаться. При наличии такого решения можно использовать те же критерии, но с заменой точек $1 \leftrightarrow 3$.

Для контроля: $\Delta y_{32} = -6s = |v_{3y}| \cdot 3T - 9gT^2/2$.

Задача 10.2. Оптика будет!

Луч лазера падает из воздуха на левую (см. рис. 10.2) грань стеклянной призмы под углом $\alpha = 60^\circ$ к её поверхности.

1. Под каким углом β к поверхности правой грани он выйдет из призмы, если при переходе из стекла в воздух преломлённый и отражённый лучи перпендикулярны друг другу?

2. Чему равен преломляющий угол призмы φ ?

Показатель преломления стекла $n = 1,6$.

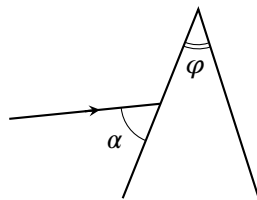


Рис. 10.2.

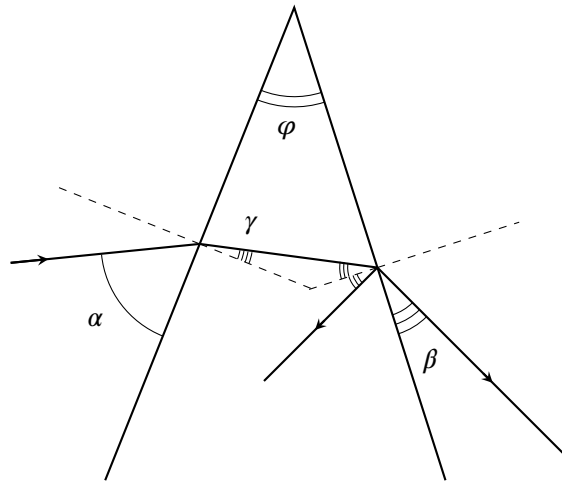


Рис. 10.3.

Ответ: 1) $\beta \approx 32,0^\circ$; 2) $\varphi \approx 50,2^\circ$.

Решение: Рассмотрим преломление лучи на правой грани призмы. Так как β , по условию, угол между лучом и поверхностью, угол преломления в воздухе равен $90^\circ - \beta$. С другой стороны, при переходе из стекла в воздух преломлённый луч должен быть перпендикулярен отражённому (см. рис. 10.3). Отсюда следует, что угол падения луча на правую грань призмы равен β . По закону преломления

$$\frac{\sin \beta}{\sin(90^\circ - \beta)} = \frac{1}{n} \Rightarrow \operatorname{tg} \beta = \frac{1}{n} \Rightarrow \beta = \operatorname{arctg} \frac{1}{n} = \operatorname{arctg} \frac{5}{8} \approx 32,0^\circ.$$

Пусть γ — угол преломления на левой грани. По закону преломления

$$\frac{\sin(90^\circ - \alpha)}{\sin \gamma} = n \Rightarrow \sin \gamma = \frac{\sin(90^\circ - \alpha)}{n} = \frac{\sin 30^\circ}{n} = \frac{1}{2n} \Rightarrow \gamma = \operatorname{arcsin} \frac{1}{2n} = \operatorname{arcsin} \frac{5}{16} \approx 18,2^\circ.$$

Сумма углов в треугольнике, образованном гранями призмы и идущим в стекле лучом, равна 180° . Поэтому

$$(90^\circ - \gamma) + \varphi + (90^\circ - \beta) = 180^\circ \Rightarrow \varphi = \gamma + \beta \approx 50,2^\circ.$$

Критерии:

- 1) Записан закон преломления для левой грани 1 балл
- 2) Найден угол преломления γ 1 балл
- 3) Записана формула $\operatorname{tg} \beta = 1/n$ или её аналог 3 балла
- 4) Найден угол преломления β 1 балл
- 5) Записано условие, связывающее φ с γ и β 3 балла
- 6) Найдено значение преломляющего угла φ 1 балл

Указание проверяющим: Углы могут быть записаны в виде $\beta = \operatorname{arctg}(5/8)$, $\gamma = \operatorname{arcsin}(5/16)$, $\varphi = \operatorname{arctg}(5/8) + \operatorname{arcsin}(5/16)$. В этом случае баллы за пункты 2, 4 и 6 (соответственно) ставить.

Задача 10.3. Тянем-потянем.

Какова сила натяжения нити, перекинутой через блок, в системе, изображённой на рис. 10.4, если масса верхнего груза равна $m = 200$ г, масса нижнего $M = 800$ г, сила $F = 2,5$ Н, а коэффициент трения между грузами $\mu = 0,25$? Трение между нижним грузом и горизонтальной поверхностью, на которой он находится, отсутствует. Нити считать горизонтальными, невесомыми и нерастяжимыми. Массой блока и трение в его оси пренебречь. Ускорение свободного падения принять равным 10 м/с^2 .

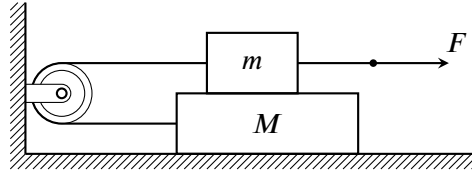


Рис. 10.4.

Ответ: 1,7 Н.

Решение: Пусть a — ускорение грузов (у верхнего оно направлено вправо, а у нижнего — влево), а T — искомая сила натяжения нити.

Предположим, что $a > 0$. Тогда грузы движутся друг по другу, и сила трения равна $F_{\text{тр}} = \mu mg$. Запишем 2-й закон Ньютона для обоих грузов:

$$ma = F - T - \mu mg \quad (\text{верхний груз}),$$

$$Ma = T - \mu mg \quad (\text{нижний груз}).$$

Отсюда следует, что

$$(m + M)a = F - 2\mu mg = 2,5 \text{ Н} - 2 \cdot 0,25 \cdot 0,2 \text{ кг} \cdot 10 \text{ м/с}^2 > 0 \Rightarrow a > 0,$$

то есть наше предположение верно. Найдём силу натяжения T :

$$\frac{m}{M} = \frac{F - T - \mu mg}{T - \mu mg} \Rightarrow (m + M)T + (M - m)\mu mg = MF \Rightarrow T = \frac{MF - (M - m)\mu mg}{m + M} = 1,7 \text{ Н}.$$

Критерии:

- 1) Указано, что силы трения, действующие на оба груза, одинаковы по модулю 1 балл
- 2) Записан 2-й закон Ньютона для верхнего груза 3 балла
- 3) Записан 2-й закон Ньютона для нижнего груза 2 балла
- 4) Обосновано, что сила трения достигает максимального значения 1 балл
- 5) Формула $F_{\text{тр}} = \mu mg$ 1 балл
- 6) Найдено значение T 2 балла

Указание проверяющим:

- 1) Указание может быть сделано на чертеже или сразу в записи 2-го закона Ньютона. В этих случаях балл за пункт 1 ставится.
- 2) Обоснование, что сила трения равна силе трения скольжения (пункт 4), может отличаться от авторского. Например, достаточно предъявить числовое значение ускорения. Остальные пункты критериев оцениваются независимо.
- 3) Если пункт 1 отсутствует, балл за пункт 5 критериев не ставить!
- 4) Если в пункте 6 числовое значение T неверное, но учащийся записал правильную конечную формулу для подсчёта T , за пункт 6 ставить 1 балл из 2.

Задача 10.4. Нагрев проводников.

У экспериментатора Иннокентия Иванова есть три цилиндрических проводника, сделанных из одного и того же тугоплавкого материала (размеры указаны на рис. 10.5), к торцам которых он по очереди подключает источник постоянного напряжения. Когда Иннокентий подключил источник к проводнику №1, тот нагрелся до температуры 120 °С. Второй проводник смог нагреться уже до 280 °С. До какой температуры сможет нагреться проводник №3? Температура воздуха в комнате равна $t_0 = 20$ °С. Удельное сопротивление материала зависит от его температуры t по закону $\rho = \rho_0(1 + \alpha(t - t_0))$, где ρ_0 — удельное сопротивление при комнатной температуре t_0 , а α — некоторый коэффициент. Считать, что мощность теплоотдачи от проводника пропорциональна разности температур между ним и воздухом, а также площади его боковой поверхности.

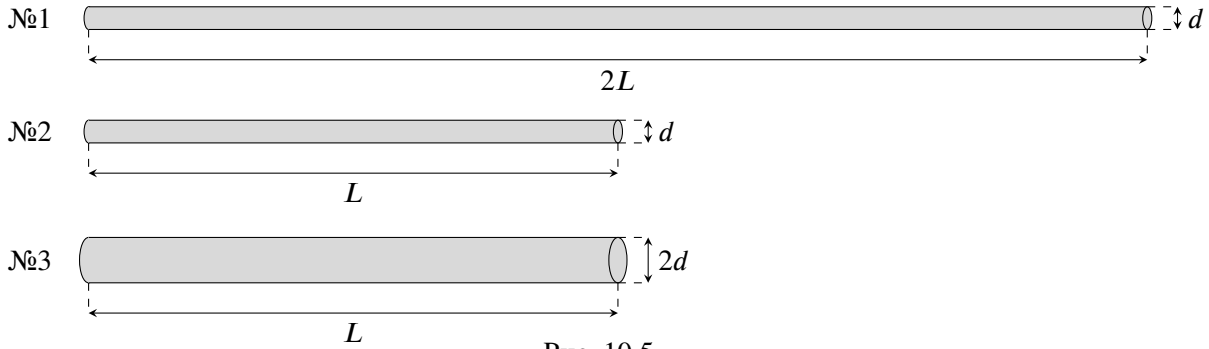


Рис. 10.5.

Ответ: 420 °С.

Решение: Пусть U — напряжение на выводах источника. Тепловая мощность, выделяющаяся в проводнике длины l и диаметром d , нагретшемся до температуры t , равна

$$P_{эл} = \frac{U^2}{R} = \frac{U^2 S}{\rho l} = \frac{\pi d^2 U^2}{4l \rho_0 (1 + \alpha(t - t_0))}.$$

Так как площадь боковой поверхности проводника $S_{бок} = \pi dl$, мощность теплоотдачи от такого проводника равна $P_{отд} = k \cdot \pi dl(t - t_0)$, где k — коэффициент пропорциональности. Если t — установившаяся температура, то вся мощность, выделяемая в проводнике, должна отдаваться воздуху, поэтому

$$P_{эл} = P_{отд} \Rightarrow \frac{\pi d^2 U^2}{4l \rho_0 (1 + \alpha(t - t_0))} = k \cdot \pi dl(t - t_0) \Rightarrow \frac{U^2 d}{4kl^2} = (t - t_0) \cdot (1 + \alpha(t - t_0)).$$

В случаях №1 и №2 длина $l_1 = 2L, l_2 = L$, диаметры одинаковы, а температуры равны $t_1 = 120$ °С и $t_2 = 280$ °С. Подставляя данные, получаем

$$\begin{cases} U^2 d / (16kL^2) = 100 \text{ °С} \cdot (1 + \alpha \cdot 100 \text{ °С}), \\ U^2 d / (4kL^2) = 260 \text{ °С} \cdot (1 + \alpha \cdot 260 \text{ °С}) \end{cases} \Rightarrow 260 \text{ °С} \cdot (1 + \alpha \cdot 260 \text{ °С}) = 4 \cdot 100 \text{ °С} \cdot (1 + \alpha \cdot 100 \text{ °С}) \Rightarrow \alpha \approx 0,005 \text{ °С}^{-1}.$$

В третьем случае $l_3 = L$, а диаметр равен $2d$, поэтому

$$U^2 \cdot 2d / (4kL^2) = (t_3 - t_0) \cdot (1 + \alpha \cdot (t_3 - t_0)) \Rightarrow 8 \cdot 100 \text{ °С} \cdot (1 + \alpha \cdot 100 \text{ °С}) = (t_3 - t_0) \cdot (1 + \alpha \cdot (t_3 - t_0)).$$

Подставляя значение α , получаем

$$0,005 \text{ °С}^{-1} \cdot (t_3 - t_0)^2 + (t_3 - t_0) = 1200 \text{ °С} \Rightarrow t_3 - t_0 = (-1 \pm 5) / (0,01) \text{ °С}.$$

Отбрасывая нефизический отрицательный корень, находим, что $t_3 = t_0 + 400 \text{ °С} = 420 \text{ °С}$.

Критерии:

- 1) Записано выражение для $P_{эл}$ через ρ_0, t и размеры в каком-либо случае (или в общем случае) 1 балл
- 2) Записано выражение $P_{отд} = kS_{бок}(t - t_0)$ или аналог 1 балл
- 3) Записано выражение для $S_{бок}$ в каком-либо случае (или в общем случае) 1 балл
- 4) Записано равенство $P_{эл} = P_{отд}$ для каждого проводника 1 балл за каждый случай (в сумме 3 балла)
- 5) Найден тепловой коэффициент α 2 балла
- 6) Найдена температура t_3 2 балла

Указание проверяющим:

- 1) Учащийся может записывать выражения не для мощностей, а для теплот, сразу умножая мощности на некоторое общее время. В случае верно написанных формул баллы ставить по соответствующим пунктам критериев в полном объёме.
- 2) Если учащийся сразу записывает верное выражение для $P_{отд}$ с уже подставленной $S_{бок} = \pi ld$ (или аналогом для нужного ему случая), баллы за пункт 2 ставить автоматически.
- 3) В пункте 4 принимать только уравнения в «расшифрованном» виде, с подставленными выражениями для мощностей.
- 4) Если учащийся сразу пишет верные формулы для $P_{эл}$ и/или $P_{отд}$ внутри уравнений из пункта 4, баллы за пункты 2,3 и/или 1 ставить автоматически.
- 5) В зависимости от степени округления значения α , ответ в пункте 6 может незначительно отличаться (419 – 421 °С).

Задача 10.5. Равновесие изогнутого стержня.

Тонкий однородный стержень массой M , согнутый под прямым углом, шарнирно закреплён на опоре так, что в положении равновесия его длинная часть является горизонтальной (рис. 10.6). Груз какой массы m нужно подвесить к левому концу стержня, чтобы в новом положении равновесия его длинная часть образовала угол α с горизонтом? Длина короткой части (на рис. 10.6 она расположена вертикально) равна одной трети длины всего стержня. Трение в шарнире отсутствует.

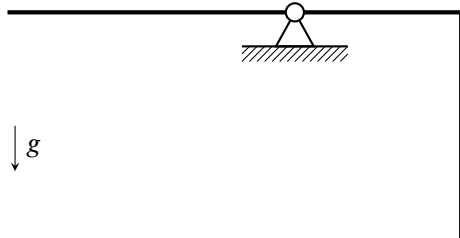


Рис. 10.6.

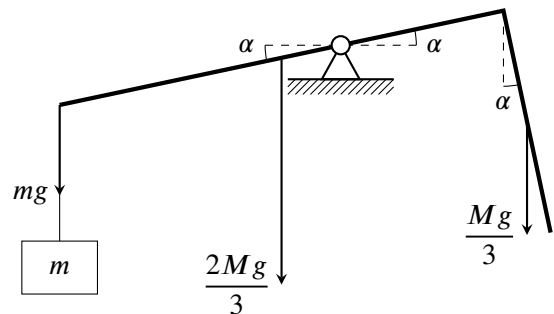


Рис. 10.7.

Ответ: $M/8 \cdot \operatorname{tg} \alpha$.

Решение: Рассмотрим равновесие стержня без груза. Пусть L — длина вертикальной части стержня, $2L$ — длина оставшейся (горизонтальной) части. Запишем правило моментов относительно шарнира и найдём расстояние x от центра тяжести горизонтальной части до шарнира:

$$\frac{2Mg}{3} \cdot x = \frac{Mg}{3} \cdot (L - x) \Rightarrow x = \frac{L}{3}.$$

Рассмотрим теперь правило моментов относительно шарнира для стержня с грузом:

$$\begin{aligned} mg \cdot (L + x) \cos \alpha + \frac{2Mg}{3} \cdot x \cos \alpha &= \frac{Mg}{3} \cdot \left((L - x) \cos \alpha + \frac{L}{2} \sin \alpha \right) \Rightarrow \\ \Rightarrow \frac{4mgL \cos \alpha}{3} + \frac{2MgL \cos \alpha}{9} &= \frac{MgL}{3} \cdot \left(\frac{2}{3} \cos \alpha + \frac{1}{2} \sin \alpha \right) \Rightarrow m = \frac{M \operatorname{tg} \alpha}{8}. \end{aligned}$$

Критерии:

- 1) Записано правило моментов относительно шарнира в первом случае 2 балла
- 2) Найдено смещение центра масс длинной части стержня относительно шарнира 2 балла
- 3) Записано правило моментов во втором случае 4 балла
- 4) Найдено значение m 2 балла

Указание проверяющим:

- 1) В пункте 1 учащийся может рассмотреть отдельно силы тяжести на левый и правый кусок горизонтальной части стержня. Если всё сделано верно, баллы за пункт 1 ставить.
- 2) В пункте 2 учащийся может найти иной параметр, характеризующий смещение стержня относительно шарнира (не обязательно x).
- 3) Поиск центра масс (ЦМ) **всего** стержня соответствует пункту 1 критериев. Если он выполнен верно (достаточно его положения по горизонтали), ставить полный балл за этот пункт. Для ориентировки, ЦМ всего стержня находится на расстоянии $2L/3$ левее и на расстоянии $L/6$ ниже его угла.
- 4) Учащийся может указать, что ЦМ **всего** стержня находится точно под шарниром. Если положение ЦМ уже верно определено, то за данное утверждение ставить полный балл в пункте 2.
- 5) Если это утверждение сделано, но положение центра масс не определено, то за пункт 2 ставить 1 балл из 2, а за пункт 1 баллы не ставить.

11 класс

Задача 11.1. Одновременное падение.

Из одной точки на земле одновременно брошены два тела: первое — под углом $\alpha = 30^\circ$, второе — под углом $\beta = 60^\circ$ к горизонту. Определите начальные скорости тел, если они одновременно упали обратно на землю на расстоянии $\Delta L = 4$ м друг от друга. Рассмотрите все возможные варианты, считая, что траектории движения обоих тел лежат в одной плоскости. Ускорение свободного падения принять равным 10 м/с^2 . Сопротивление воздуха не учитывать, а поверхность земли считать горизонтальной.

Ответ: $v_1 = 8,3 \text{ м/с}$, $v_2 = 4,8 \text{ м/с}$ или $v_1 = 3,4 \text{ м/с}$, $v_2 = 5,9 \text{ м/с}$.

Решение: Пусть v_1 — скорость первого тела, а v_2 — скорость второго. Так как они приземляются одновременно, времена их полёта равны:

$$t_1 = t_2 \Rightarrow \frac{2v_1 \sin \alpha}{g} = \frac{2v_2 \sin \beta}{g} \Rightarrow v_1 \sin 30^\circ = v_2 \sin 60^\circ \Rightarrow v_1 = v_2 \sqrt{3}.$$

Рассмотрим первый вариант, когда точки падения тел находятся по одну сторону от точки старта. В данной случае дальности полёта отличаются на ΔL :

$$\Delta L = L_1 - L_2 = \frac{v_1^2 \sin 2\alpha}{g} - \frac{v_2^2 \sin 2\beta}{g} = \frac{\sqrt{3}(v_1^2 - v_2^2)}{2g} = \frac{\sqrt{3}v_2^2}{g}.$$

Отсюда получаем, что

$$v_2 = \sqrt{\frac{g\Delta L}{\sqrt{3}}} \approx 4,8 \text{ м/с}, \quad v_1 = \sqrt{3} \cdot v_2 \approx 8,3 \text{ м/с}.$$

Теперь рассмотрим второй вариант, когда точки падения тел находятся по разные стороны от точки старта. Здесь

$$\Delta L = L_1 + L_2 = \frac{v_1^2 \sin 2\alpha}{g} + \frac{v_2^2 \sin 2\beta}{g} = \frac{\sqrt{3}(v_1^2 + v_2^2)}{2g} = \frac{2\sqrt{3}v_2^2}{g}.$$

Отсюда

$$v_2 = \sqrt{\frac{g\Delta L}{2\sqrt{3}}} \approx 3,4 \text{ м/с}, \quad v_1 = \sqrt{3} \cdot v_2 \approx 5,9 \text{ м/с}.$$

Критерии:

- 1) Записана формула для времени полёта для каждого тела 1 балл
- 2) Записано условие равенства времён полёта 1 балл
- 3) Найдена связь между скоростями $v_1 = v_2 \sqrt{3}$ или её аналог 2 балла
- 4) Получена связь между ΔL и одной из скоростей v_1 (или v_2) в первом случае 2 балла
- 5) Получена связь между ΔL и одной из скоростей v_1 (или v_2) во втором случае 2 балла
- 6) Найдены скорости v_1 и v_2 в первом случае 1 балл
- 7) Найдены скорости v_1 и v_2 во втором случае 1 балл

Указание проверяющим:

В пунктах 3, 4 и 5 формулы могут быть приведены без подставления числовых значений α и β .

Задача 11.2. Тяни-толкай.

Если на маленький брусок, лежащий на шершавой поверхности, действовать силой F , направленной горизонтально вправо (рис. 11.1а), он будет двигаться с ускорением $a_1 = 1 \text{ м/с}^2$.

1. Каким станет ускорение бруска a_2 , если та же сила F направлена вниз и вправо под углом $\alpha = 30^\circ$ к горизонту (см. рис. 11.1б)?

2. С каким ускорением a_3 будет двигаться брусок, если сила F направлена вверх и вправо под углом $\alpha = 30^\circ$ к горизонту (см. рис. 11.1в)?

Коэффициент трения скольжения бруска о поверхность равен $\mu = 0,4$, а ускорение свободного падения $g = 10 \text{ м/с}^2$. Поверхность считать горизонтальной. Сопротивлением воздуха пренебречь.

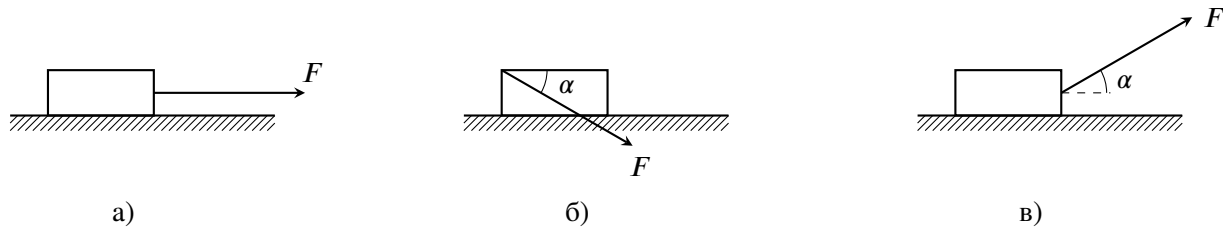


Рис. 11.1.

Ответ: 1) $a_2 = 0$; 2) $a_3 = 1,33 \text{ м/с}^2$.

Решение: Пусть m — масса бруска. В первом случае

$$ma_1 = F - \mu mg \Rightarrow F = m(a_1 + \mu g).$$

Рассмотрим второй случай и предположим, что $a_2 > 0$. Запишем 2-й закон Ньютона в проекции на горизонтальную и вертикальную оси (N — сила реакции опоры):

$$\begin{cases} ma_2 = F \cos \alpha - \mu N, \\ 0 = N - F \sin \alpha - mg \end{cases} \Rightarrow ma_2 = F \cos \alpha - \mu(mg + F \sin \alpha) \Rightarrow ma_2 = F(\cos \alpha - \mu \sin \alpha) - \mu mg \Rightarrow$$

$$\Rightarrow a_2 = (a_1 + \mu g)(\cos \alpha - \mu \sin \alpha) - \mu g = 5 \text{ м/с}^2 \cdot (0,866 - 0,2) - 4 \text{ м/с}^2 = -0,67 \text{ м/с}^2 < 0.$$

Отсюда видно, что наше предположение неверно, и $a_2 = 0$.

Рассмотрим теперь третий случай и снова предположим, что $a_3 > 0$. Запишем 2-й закон Ньютона в проекции на горизонтальную и вертикальную оси (N' — сила реакции опоры):

$$\begin{cases} ma_3 = F \cos \alpha - \mu N', \\ 0 = N' + F \sin \alpha - mg \end{cases} \Rightarrow ma_3 = F \cos \alpha - \mu(mg - F \sin \alpha) \Rightarrow ma_3 = F(\cos \alpha + \mu \sin \alpha) - \mu mg \Rightarrow$$

$$\Rightarrow a_3 = (a_1 + \mu g)(\cos \alpha + \mu \sin \alpha) - \mu g = 5 \text{ м/с}^2 \cdot (0,866 + 0,2) - 4 \text{ м/с}^2 = 1,33 \text{ м/с}^2 > 0.$$

В третьем случае наше предположение верно, поэтому $a_3 = 1,33 \text{ м/с}^2$.

Критерии:

- 1) Записан 2й закон Ньютона в первом случае 2 балла
- 2) Записан 2й закон Ньютона во втором случае (в проекции на обе оси) 1 балл за уравнение (в сумме 2 балла)
- 3) Обосновано, что $a_2 = 0$ 2 балла
- 4) Записан 2й закон Ньютона в третьем случае (в проекции на обе оси) 1 балл за уравнение (в сумме 2 балла)
- 5) Найдено значение a_3 2 балла

Задача 11.3. Подъём груза.

Груз массой m , насаженный на вертикальную гладкую спицу, тянут вверх, прикладывая к нити, перекинутой через неподвижный блок, постоянную горизонтальную силу. Ось блока находится на расстоянии L от спицы. В начальный момент груз имеет нулевую скорость и расположен так, как показано на рис. 11.2.

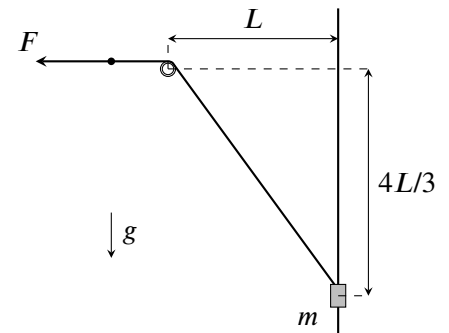


Рис. 11.2.

1. С какой наименьшей силой F нужно тянуть, чтобы груз смог подняться до уровня оси блока?
2. Какова в этом случае будет максимальная скорость груза в процессе его движения?

Нить считать невесомой и нерастяжимой. Размерами блока и груза пренебречь. Трение в оси блока отсутствует.

Ответ: 1) $F_{min} = 2mg$; 2) $v_{max} = (\sqrt{3} - 1) \cdot \sqrt{gL}$.

Решение: Движение груза вдоль спицы происходит с переменным ускорением!

1. Чтобы найти наименьшую силу F , рассмотрим критический случай, когда скорость груза на уровне оси блока равна нулю. Запишем связь между изменением полной энергии груза и работой силы F . Работа равна

$$A = F\Delta s = F \cdot \left(\sqrt{L^2 + \left(\frac{4L}{3}\right)^2} - L \right) = F \cdot \left(\frac{5L}{3} - L \right) = \frac{2FL}{3}.$$

Так как начальная скорость тоже равна нулю, изменение полной энергии в критическом случае равно увеличению потенциальной энергии. Отсюда получаем, что

$$mg \cdot \frac{4L}{3} = \frac{2F_{min}L}{3} \Rightarrow F_{min} = 2mg.$$

2. Если скорость груза максимальна, то его ускорение равно нулю. Это значит, что силы, действующие на груз, компенсируют друг друга. Пусть груз к этому моменту поднялся на высоту h , а нить образовала угол α со спицей. Запишем условие равенства сил в проекции на спицу:

$$F_{min} \cos \alpha = mg \Rightarrow \cos \alpha = 1/2 \Rightarrow \alpha = 60^\circ.$$

С другой стороны,

$$\operatorname{tg} \alpha = L/(4L/3 - h) \Rightarrow \sqrt{3} \cdot (4L/3 - h) = L \Rightarrow h = 4L/3 - L/\sqrt{3}.$$

Запишем снова связь между изменением полной энергии груза и работой силы F :

$$\begin{aligned} \frac{mv_{max}^2}{2} + mgh &= F \cdot \left(\frac{5L}{3} - \frac{L}{\cos \alpha} \right) \Rightarrow \frac{mv_{max}^2}{2} + mg \cdot \left(\frac{4L}{3} - \frac{L}{\sqrt{3}} \right) = 2mg \cdot \left(\frac{5L}{3} - \frac{2L}{\sqrt{3}} \right) \Rightarrow \\ \Rightarrow v_{max}^2 &= gL \cdot (4 - 2\sqrt{3}) = gL \cdot (\sqrt{3} - 1)^2 \Rightarrow v_{max} = \sqrt{gL} \cdot (\sqrt{3} - 1). \end{aligned}$$

Критерии:

- 1) Указано, что на уровне оси блока в критическом случае скорость груза равна нулю 1 балл
- 2) Записано выражение для работы силы F по подъёму груза до уровня оси 2 балла
- 3) Найдено значение минимальной силы F_{min} 2 балла
- 4) Найдено положение, где ускорение груза равно нулю 1 балл
- 5) Записано выражение для работы силы F по подъёму груза до места, где скорость максимальна 2 балла
- 6) Найдено значение v_{max} 2 балла

Указания проверяющим:

- 1) В пункте 4 достаточно найти h (или $L - h$) или α , соответствующие положению груза.
- 2) В пунктах 2 и 5 учащийся должен привести «расшифрованные» выражения. Формулы $A = F\Delta s$ недостаточно.
- 3) Коэффициент при \sqrt{gL} может быть записан в любой из тождественных форм, например: $\sqrt{3} - 1$, $\sqrt{4 - 2\sqrt{3}}$, $0,73$ и т.п. Баллы во всех таких случаях ставить.

Задача 11.4. Изучаем цикл.

Одноатомный идеальный газ совершает цикл 1-2-3-4-1 (см. рис. 11.3), состоящий из двух изохор и двух изобар. Температура газа в точке 1 равна T_1 , в точке 3 равна $T_3 = 6T_1$, а в точке 2 температура на T_1 больше, чем температура в точке 4.

1. Какова температура газа в точках 2 и 4?
2. Какую работу совершит ν молей газа за этот цикл?
3. Определите КПД данного цикла.

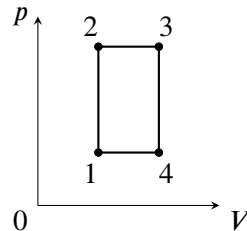


Рис. 11.3.

Ответ: 1) $T_2 = 3T_1, T_4 = 2T_1$; 2) $A = 2\nu RT_1$; 3) $\eta = 4/21$.

Решение: Пусть T_2 и T_4 — температуры в точках 2 и 4 соответственно, причём по условию $T_2 = T_1 + T_4$. Так как процессы 1-2 и 3-4 изохорные, а давления в точках 2-3 и 1-4 совпадают,

$$\frac{p_2}{p_1} = \frac{T_2}{T_1} = \frac{T_3}{T_4} \Rightarrow \frac{T_4 + T_1}{T_1} = \frac{6T_1}{T_4} \Rightarrow T_4^2 + T_1 T_4 - 6T_1^2 = 0.$$

Отбрасывая отрицательный корень, получаем, что $T_4 = 2T_1$. Соответственно, $T_2 = 3T_1$.

Работа за цикл равна

$$A = (p_2 - p_1) \cdot (V_3 - V_2) = p_1 V_2 \left(\frac{p_2}{p_1} - 1 \right) \cdot \left(\frac{V_3}{V_2} - 1 \right) = p_1 V_2 \left(\frac{T_2}{T_1} - 1 \right) \cdot \left(\frac{T_3}{T_2} - 1 \right) = 2p_1 V_2 = 2\nu RT_1.$$

Количество теплоты, подведенное к газу:

$$\begin{aligned} Q_+ = Q_{13} &= \frac{3}{2} \nu R(T_3 - T_1) + p_2(V_3 - V_2) = \frac{3}{2} \nu R(6T_1 - T_1) + p_2 V_2 \left(\frac{V_3}{V_2} - 1 \right) = \\ &= \frac{15}{2} \nu RT_1 + \nu R \cdot 3T_1 = \frac{21}{2} \nu RT_1. \end{aligned}$$

КПД цикла, соответственно, равен

$$\eta = \frac{A}{Q_+} = \frac{4}{21}.$$

Критерии:

- 1) Записана пропорция между температурами T_1, \dots, T_4 1 балл
- 2) Найдены температуры T_2 и T_3 2 балла
- 3) Найдено выражение для работы $A = 2\nu RT_1$ 2 балла
- 4) Записана формула для расчёта Q_+ 1 балл
- 5) Найдено выражение $Q_+ = 21/2 \cdot \nu RT_1$ 2 балла
- 6) Найдено выражение для КПД $\eta = 4/21$ 2 балла

Задача 11.5. Заряд имеет значение!

В цепи, изображённой на рис. 11.4, ключ K вначале разомкнут, конденсатор ёмкостью $3C$ не заряжен, а заряд q конденсатора ёмкостью C отличен от нуля. Определите заряд q , если после замыкания ключа в цепи выделяется количество теплоты $Q = C\mathcal{E}^2/4$. Величины C и ЭДС батареи \mathcal{E} считать заданными.

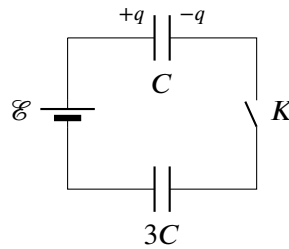


Рис. 11.4.

Ответ: $C\mathcal{E} \left(1 \pm \sqrt{2/3}\right)$.

Решение: Пусть после замыкания ключа через источник (в положительном направлении) прошёл заряд Δq . Тогда заряд на конденсаторе C стал равным $q + \Delta q$, а на правой обкладке конденсатора $3C$ появился заряд Δq . Сумма напряжений на конденсаторах равна ЭДС источника:

$$\frac{q + \Delta q}{C} + \frac{\Delta q}{3C} = \mathcal{E} \Rightarrow 3q + 4\Delta q = 3C\mathcal{E} \Rightarrow \Delta q = \frac{3}{4} \cdot (C\mathcal{E} - q).$$

Работа источника $A_{\text{ист}} = \Delta q \cdot \mathcal{E} = 3\mathcal{E}/4 \cdot (C\mathcal{E} - q)$ равна сумме изменения энергии конденсаторов и количества выделившейся теплоты:

$$\begin{aligned} A_{\text{ист}} = \Delta W_C + \Delta W_{3C} + Q &= \frac{1}{2C} ((q + \Delta q)^2 - q^2) + \frac{\Delta q^2}{6C} + Q = \frac{3}{8C} ((C\mathcal{E})^2 - q^2) + Q \Rightarrow \\ &\Rightarrow \frac{3C\mathcal{E}^2}{4} - \frac{3q\mathcal{E}}{4} = \frac{3C\mathcal{E}^2}{8} - \frac{3q^2}{8C} + Q. \end{aligned}$$

Подставляя выражение $Q = C\mathcal{E}^2/4$, получаем

$$\frac{3q^2}{8C} - \frac{3q\mathcal{E}}{4} + \frac{C\mathcal{E}^2}{8} = 0 \Rightarrow q^2 - 2C\mathcal{E} \cdot q + \frac{(C\mathcal{E})^2}{3} = 0 \Rightarrow q = C\mathcal{E} \left(1 \pm \sqrt{\frac{2}{3}}\right).$$

Критерии:

- 1) Записаны новые значения зарядов на конденсаторах 1 балл
- 2) Записана формула $q_1/C + q_2/(3C) = \mathcal{E}$ или её аналог 1 балл
- 3) Заряд, прошедший через источник, выражен через C , \mathcal{E} и q 2 балла
- 4) Записана формула $A_{\text{ист}} = \Delta W_C + \Delta W_{3C} + Q$ или её аналог 1 балл
- 5) Получено верное уравнение для нахождения q через C и \mathcal{E} 3 балла
- 6) Найденны возможные значения q 2 балла

Указание проверяющим:

- 1) Баллы в пунктах 2 и 4 ставить за само наличие формул, даже если дальнейший ход решения неверен.
- 2) В пункте 1 балл ставится, если учащийся выбрал такие обозначения для зарядов конденсаторов, что их сумма явно равна q , или же в решении должно присутствовать условие $q_1 + q_2 = q$.
- 3) Если учащийся почему-то оставил только один верный корень уравнения, а второй зачем-то был отброшен, за пункт 6 критериев ставить 1 балл из 2.